

Justina es la encargada de registrar las ventas en la feria artesanal “Manos valiosas”. Ella organiza la información en una tabla y en un gráfico.



¿Qué artículo se vendió en menor cantidad?

Artículo	Cantidad
manta	10
olla de barro	25
chalina	8
chullo	15

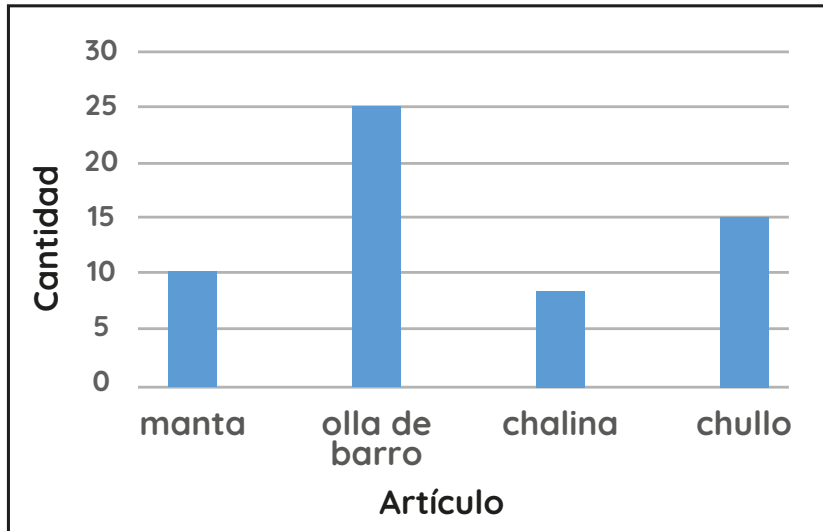
chullo

chalina

olla de barro

manta

Justina es la encargada de registrar las ventas en la feria artesanal “Manos valiosas”. Ella organiza la información en una tabla y en un gráfico.



¿Qué artículo se vendió en mayor cantidad?

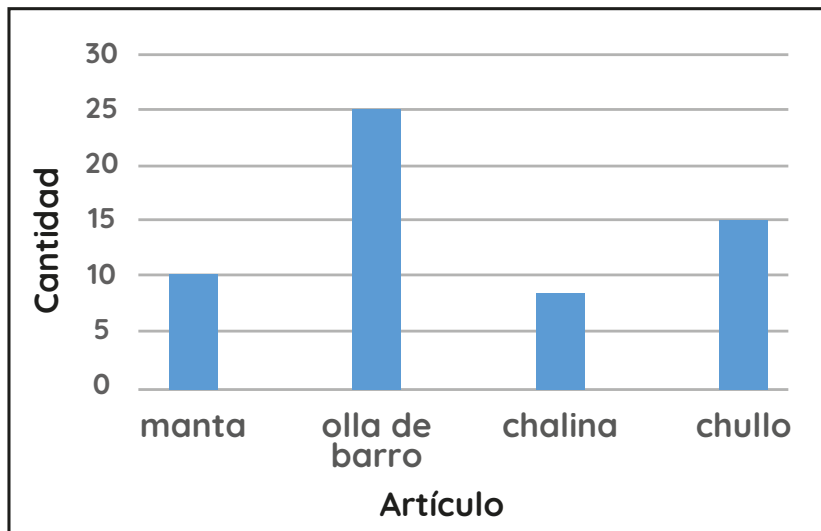
chullo

chalina

olla de barro

manta

Justina es la encargada de registrar las ventas en la feria artesanal “Manos valiosas”. Ella organiza la información en una tabla y en un gráfico.



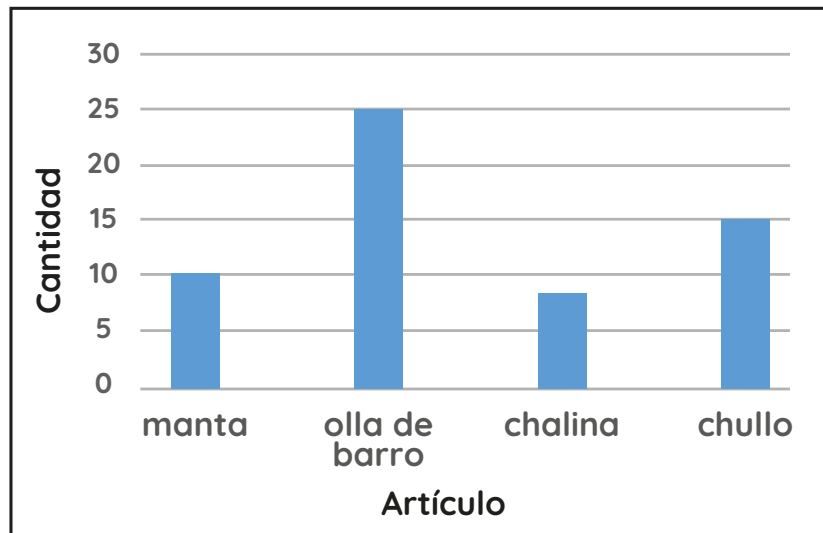
¿Cuántos chullos menos que ollas de barro se vendieron?

5

10

15

Justina es la encargada de registrar las ventas en la feria artesanal “Manos valiosas”. Ella organiza la información en una tabla y en un gráfico.



Según el gráfico, ¿qué artículo se debe promocionar para la venta? ¿Por qué?

Chalina, porque se vendió menos.

Manta, porque es más grande.

Chullo, porque es más bonito.

Justina es la encargada de registrar las ventas en la feria artesanal “Manos valiosas”. Ella organiza la información en una tabla y en un gráfico.

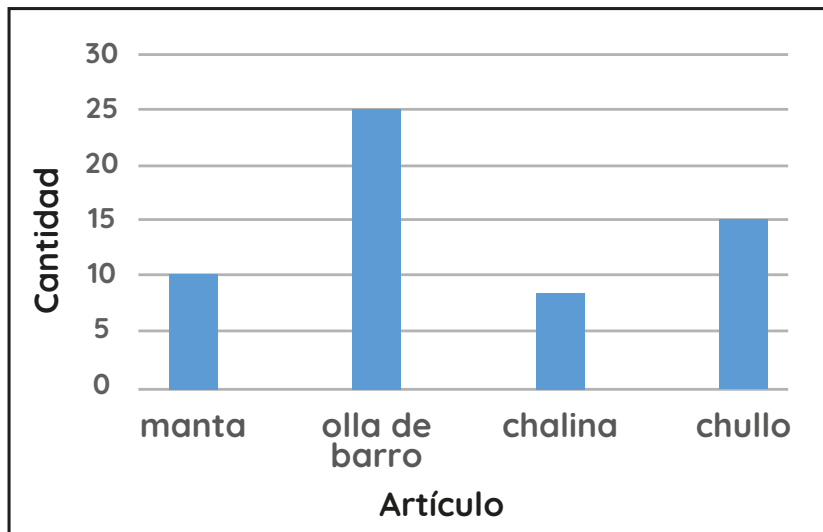


¿Qué título le pondrías a este gráfico de barras?

Artículos de  
artesanía  
hechos a mano

Venta  
de mantas

Artículos  
vendidos en la  
feria artesanal



Los estudiantes de 4.º grado asistirán a “La Feria del Talento”. Cada uno elige un taller de talentos para participar. Se registró la información en una tabla.



Taller	Cantidad
danza	17
canto	15
teatro	30
mimo	25

¿Qué taller eligieron más estudiantes?

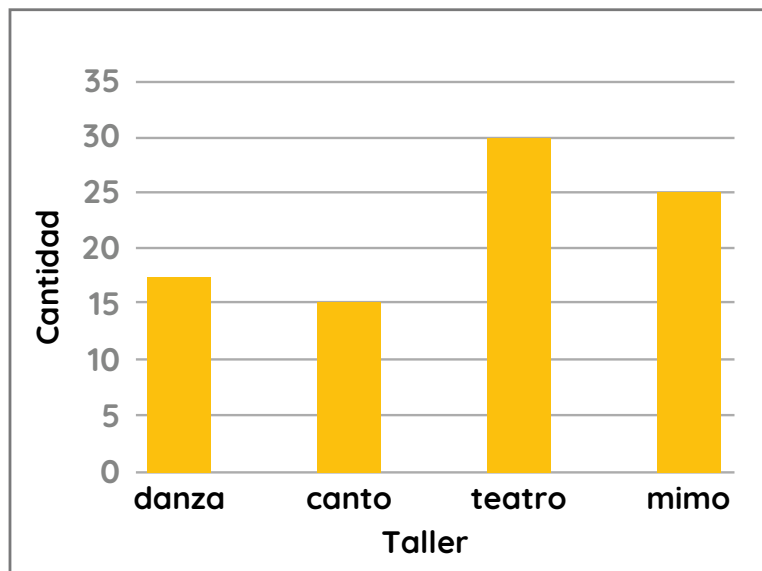
danza

canto

teatro

mimo

Los estudiantes de 4.º grado asistirán a “La Feria del Talento”. Cada uno elige un taller de talentos para participar. Se registró la información en una tabla.



¿Qué taller eligieron 15 participantes?

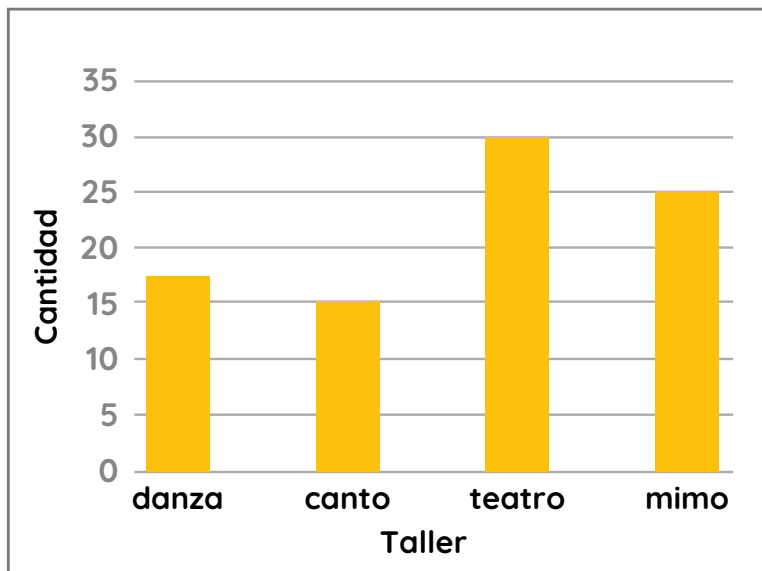
danza

canto

teatro

mimo

Los estudiantes de 4.º grado asistirán a “La Feria del Talento”. Cada uno elige un taller de talentos para participar. Se registró la información en una tabla.



¿Cuántos participantes más eligieron el taller de teatro que el de mimo?

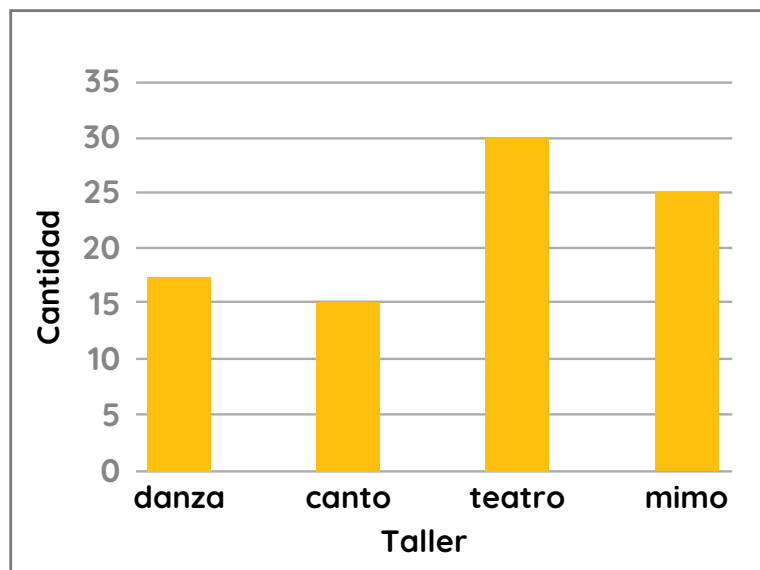
5

10

15



Los estudiantes de 4.º grado asistirán a “La Feria del Talento”. Cada uno elige un taller de talentos para participar. Se registró la información en una tabla.



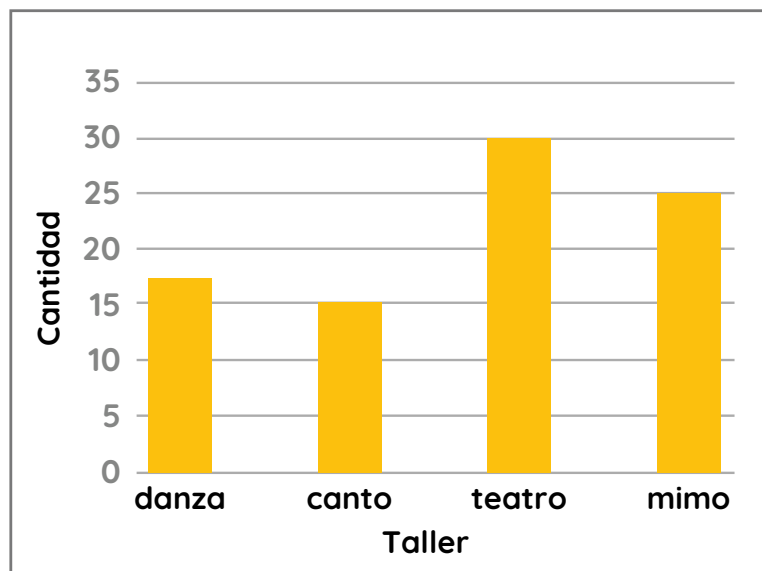
Según el gráfico, ¿qué taller debería ampliar sus vacantes? ¿Por qué?

Canto, porque tiene menos participantes.

Danza, porque es más bonito.

Teatro, porque tiene más participantes.

Los estudiantes de 4.º grado asistirán a “La Feria del Talento”. Cada uno elige un taller de talentos para participar. Se registró la información en una tabla.



¿Qué título le pondrías a este gráfico de barras?

Participantes en los talleres de talentos

Talleres vivenciales de talentos

Talleres sobre talentos

El comité encargado del ambiente sembrará flores en un parque del barrio. Se realizó una encuesta con la finalidad de saber qué flor prefieren los vecinos. Cada vecino eligió una flor.



Flor preferida	Cantidad de personas
rosa	10
clavel	15
pensamiento	35
gladiolo	20
geranio	25

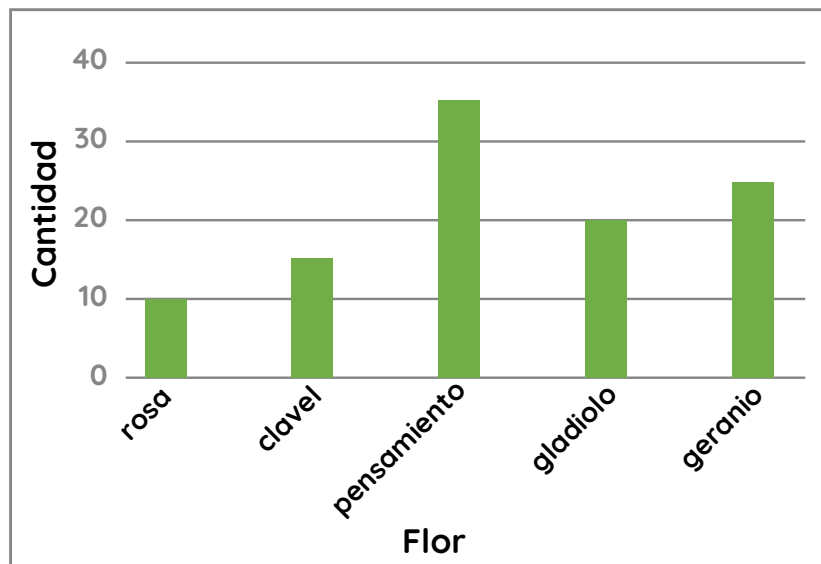
¿Cuántas personas fueron encuestadas?

85

100

105

El comité encargado del ambiente sembrará flores en un parque del barrio. Se realizó una encuesta con la finalidad de saber qué flor prefieren los vecinos. Cada vecino eligió una flor.



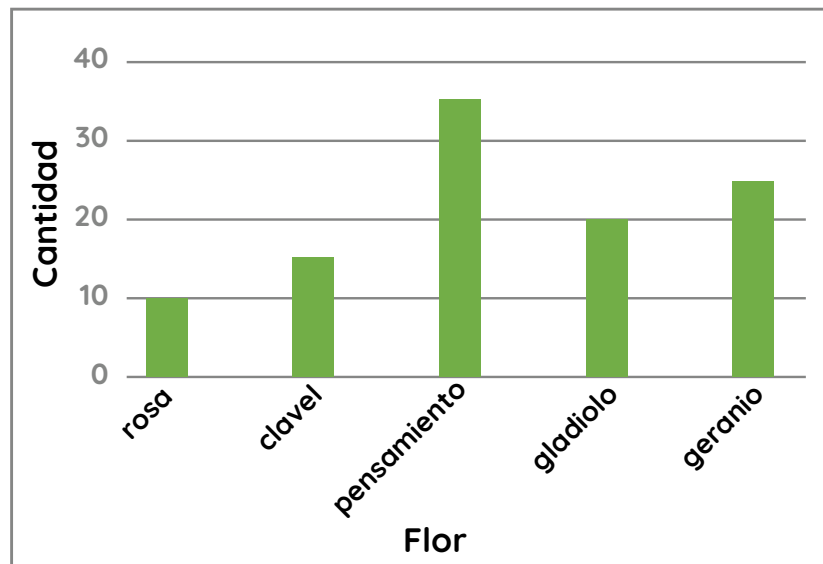
¿Cuántas opciones de flores tuvieron para elegir?

1

5

10

El comité encargado del ambiente sembrará flores en un parque del barrio. Se realizó una encuesta con la finalidad de saber qué flor prefieren los vecinos. Cada vecino eligió una flor.



¿Qué flores fueron las más elegidas?

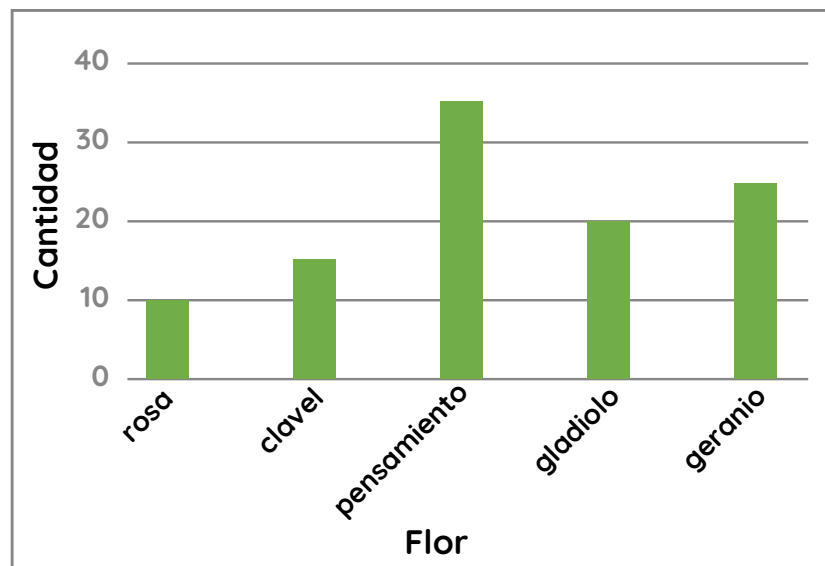
rosa y  
clavel

gladiolo y  
geranio

clavel y  
pensamiento

pensamiento  
y geranio

El comité encargado del ambiente sembrará flores en un parque del barrio. Se realizó una encuesta con la finalidad de saber qué flor prefieren los vecinos. Cada vecino eligió una flor.



Según el gráfico, ¿qué flores NO sembrarán?  
¿Por qué?

Rosa y clavel, porque tienen la menor preferencia.

Gladiolo y pensamiento, porque son las menos conocidas.

El comité encargado del ambiente sembrará flores en un parque del barrio. Se realizó una encuesta con la finalidad de saber qué flor prefieren los vecinos. Cada vecino eligió una flor.



Flor preferida	Cantidad de personas
rosa	10
clavel	15
pensamiento	35
gladiolo	20
geranio	25

¿Qué pregunta se hizo para recoger esta información?

¿Qué es lo que más te gusta del parque?

¿Qué flor prefieres que se siembre en el parque?

¿Qué flores conoces?